

## Anglais 1


## Se présenter

Vocabulaire

CM2

## 1 Pour dire bonjour


Good morning !



Good afternoon !



Good evening !



Good night !



On peut dire aussi : Hello / Hi !

## 2 Pour se présenter ou présenter quelqu'un

\* Pour demander le nom de quelqu'un, son âge, où il habite et se présenter :



Hello ! What's your name ?  
How old are you ?  
Where do you live ?

Hi ! My name is Jessica.  
I'm 10 years old.  
I live in England.



Hi ! I'm Ben.  
I'm 10 too.  
I'm from France.



\* Pour présenter quelqu'un :



This is my friend Ben.  
He is 10.



This is my sister Allison

Nice to meet you



## 1 Présente ces personnages

- 1) Sandy (our teacher, 40) \_\_\_\_\_
- 2) Tommy (my cousin, 12) \_\_\_\_\_
- 3) Karen (my friend, 10) \_\_\_\_\_

## Qu'est-ce qu'un mouvement ? Séance découverte

Objectifs : identifier et décrire un mouvement

### Activité 1 :

1. Observe l'image et écris ce que fait le garçon.

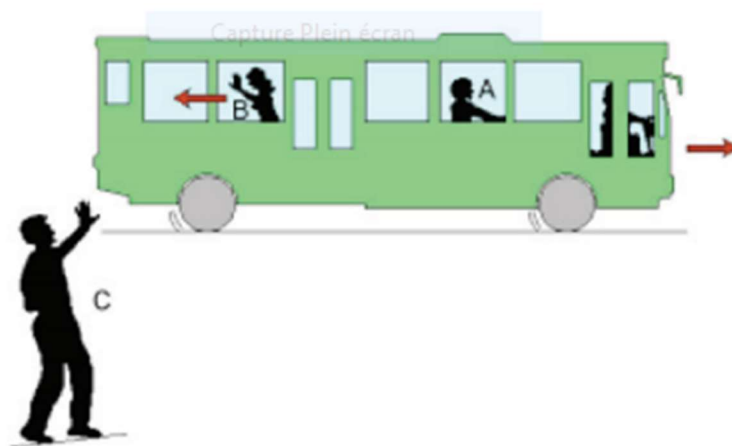
.....



2. D'après toi, qu'est-ce qu'un mouvement ? (Rédige une réponse selon tes connaissances sans aide).

.....  
.....

### Activité 2 : Analyse d'image



1. Observe l'image ci-dessus et réponds aux questions suivantes :

- Que voient les personnages A, B et C du déplacement du bus ? Puis des autres personnes ? (c'est-à-dire que voit A de B et de C, que voit B de A et C et que voit C de A et B)

.....  
.....

À la maison, essaie de reproduire une situation de mouvement comme sur l'analyse d'image et écris ou dessine la situation.

---

---

### **Ce qu'il faut retenir**

Le mouvement est le déplacement au cours du temps d'un objet (animé ou non) dans l'espace.

La description du mouvement ne peut s'effectuer que par rapport à un observateur (une référence).

## HISTOIRE

### LIRE ET COMPRENDRE UNE FRISE

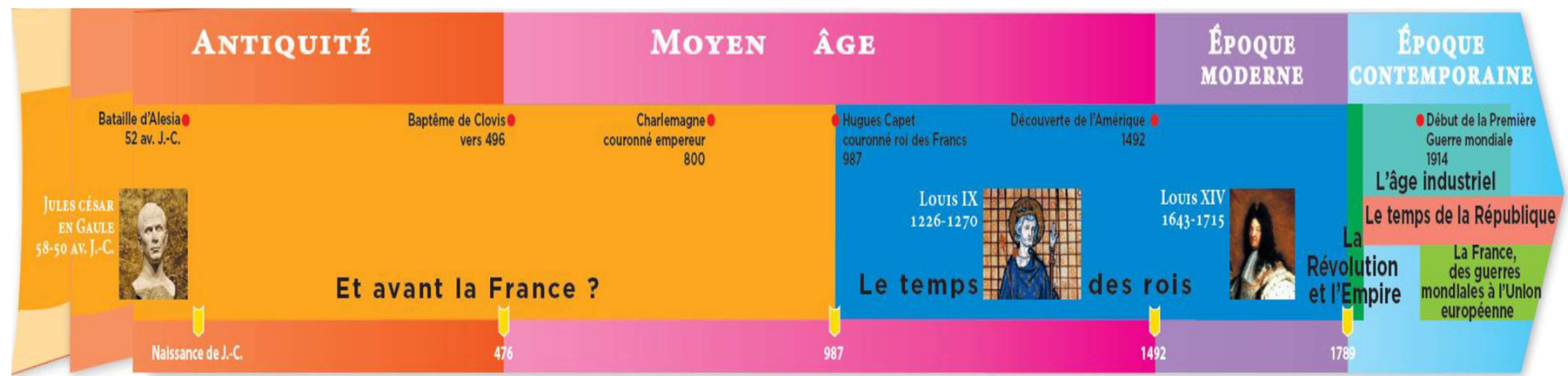
**Objectif :** Savoir utiliser une frise avec une notation en chiffres romains.

**Rappels des symboles** pour les chiffres Romains. N'oublie les Romains utilisaient l'addition et la soustraction pour former les nombres.

**I** pour **1**, **V** pour **5**, **X** pour **10**.

Exemple : **II** = 2 = 1+1, **VI** = 6 = 5 + 1, **IX** = 9 = 10 -1.

*Observe la frise*



*Réponds aux questions.*

**1. Relève sur la frise le nom des grandes périodes historiques.**

.....  
.....

**2. Quel célèbre personnage a vécu au I<sup>er</sup> siècle avant Jésus-Christ ? À quelle période historique ce personnage a-t-il vécu ? À quel évènement est-il associé ?**

**3. À la fin de quel siècle le Moyen Âge commence-t-il ? Pour t'aider à répondre, tu peux compter les siècles à partir du I<sup>er</sup> siècle après Jésus-Christ. Écris ta réponse en chiffres romains.**

.....  
.....

**4. Quel évènement met fin au Moyen Âge ? En quel siècle a-t-il eu lieu (écris-le en chiffres romains) ?**

.....  
.....

**5. Combien de temps le Moyen Âge dure-t-il ?**

.....  
.....  
.....  
.....

**6. Retrouve sur la frise trois évènements qui ont eu lieu durant le Moyen Âge.**

.....  
.....  
.....  
.....

**7. Durant quels siècles Louis IX et Louis XIV règnent-ils ? Écris tes réponses en chiffres romains. Durant quelles périodes historiques ont-ils vécu ?**

**Corrigés :**

Anglais

1. This is your teacher Sandy, he is 40.
2. This is my cousin Tommy, he is 12.
3. This is my friend Karen, he is 10.

**Histoire/ Lire et comprendre une frise/ les questions.**

1. Antiquité ; Moyen Âge ; Époque Moderne ; Époque contemporaine.
2. Jules César a vécu au cours de l'antiquité. Son nom est associé à la bataille d'Alésia (52 av.J.-C.).
3. Le Moyen Âge commence à la fin du V<sup>ème</sup> siècle.
4. La découverte de l'Amérique par Christophe Colomb au XV<sup>ème</sup> siècle.
5. Le Moyen Âge dure dix siècles. Il est traditionnellement situé entre la fin du V<sup>ème</sup> siècle (date retenue : 476, chute de l'Empire Romain) et la fin du XV<sup>ème</sup> siècle (date retenue : 1492, premier voyage de Christophe Colomb).
6.
  - Le baptême de Clovis vers 496.
  - Charlemagne couronné empereur en 800.
  - Hugues Capet couronné roi des Francs en 987.
7. Louis IX règne au XIII<sup>e</sup> siècle (1226-1270) au cours du Moyen Âge.